

This Question Paper contains Section–A 18 + Section–B 3/3 questions.

इस प्रश्न-पत्र के अन्तर्गत खण्ड–अ 18 + खण्ड–ब 3/3 प्रश्न हैं।

Time : 3 Hours ]

[ Maximum Marks : 80

समय : 3 घण्टे ]

[ पूर्णांक : 80

- Note :* (i) This Question Paper consists of *two* Sections, viz., ‘A’ and ‘B’.  
(ii) *All* questions from Section ‘A’ are to be attempted.  
(iii) Section ‘B’ has two options. Candidates are required to attempt questions from *one option* only.

- निर्देश :** (i) इस प्रश्न-पत्र में दो खण्ड हैं—खण्ड ‘अ’ तथा खण्ड ‘ब’।  
(ii) खण्ड ‘अ’ के **सभी** प्रश्नों को हल करना है।  
(iii) खण्ड ‘ब’ में दो विकल्प हैं। परीक्षार्थियों को केवल **एक विकल्प** के ही प्रश्नों के उत्तर देने हैं।

## **SECTION–A**

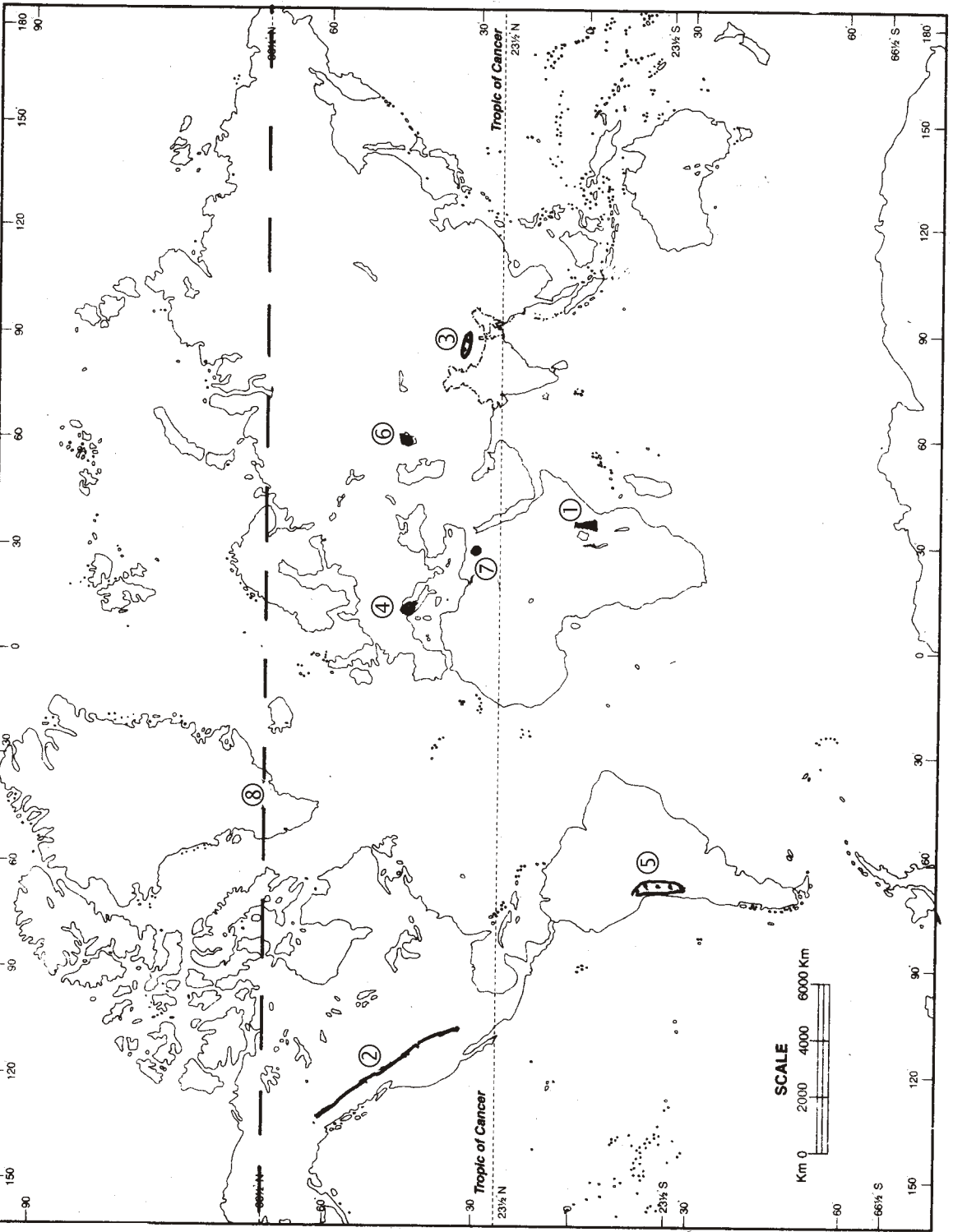
### **खण्ड–अ**

1. In the *World Map* given, *eight* geographical features are shown—(1) Volcanic Mountain; (2) Mountain Range; (3) Plateau; (4) Plain; (5) Desert; (6) Sea; (7) City and (8) Parallel of Latitude.

Write correct name of the related feature in your answer-book against each number.  $\frac{1}{2} \times 8 = 4$

दिए गए **संसार के मानचित्र** में **आठ** भौगोलिक लक्षण दिखाए गए हैं—(1) ज्वालामुखी पर्वत; (2) पर्वत श्रेणी; (3) पठार; (4) मैदान; (5) मरुस्थल; (6) सागर; (7) नगर और (8) अक्षांश रेखा।

अपनी उत्तर-पुस्तिका में प्रत्येक संख्या के सामने संबंधित लक्षण का सही नाम लिखिए।



2. In the given *Political Outline Map of India*, eight geographical features are shown—(1) Mountain; (2) River; (3) Leading Tea Producing State; (4) Iron and Steel Centre; (5) Dam; (6) Cotton Textile Centre; (7) Seaport and (8) Metropolitan city.

Write in your answer-book against each number the correct name of the related feature.

$\frac{1}{2} \times 8 = 4$

दिए गए भारत के राजनीतिक रेखामानचित्र में आठ भौगोलिक लक्षण दिखाए गए हैं—(1) पर्वत; (2) नदी; (3) चाय उत्पादन का अग्रणी राज्य; (4) लोहा और इस्पात केन्द्र; (5) बाँध; (6) सूती वस्त्र केन्द्र; (7) समुद्री पत्तन तथा (8) महानगर।

प्रत्येक लक्षण का सही नाम अपनी उत्तर-पुस्तिका में प्रत्येक संख्या के सामने लिखिए।



3. Name the natural satellite of the earth. State any *four* of its characteristics. 1+2=3
- पृथ्वी के प्राकृतिक उपग्रह का नाम बताइए। इसकी किन्हीं **चार** विशेषताओं का उल्लेख कीजिए।
4. Define the term 'Environment'. Mention its *four* major components. 1+2=3
- 'पर्यावरण' शब्द की परिभाषा दीजिए। इसके **चार** प्रमुख घटकों का उल्लेख कीजिए।
5. Mention any *three* features of 'Himadri Range'. 1×3=3
- 'हिमाद्रि श्रेणी' की किन्हीं **तीन** लक्षणों का उल्लेख कीजिए।
6. Write any *six* characteristics of 'black soils' of India. ½×6=3
- भारत की 'काली मिट्टियों' की किन्हीं **छः** विशेषताओं को लिखिए।
7. Define the term 'Literacy'. Write any *four* characteristics of literacy rate in India. 1+2=3
- 'साक्षरता' शब्द की परिभाषा दीजिए। भारत में साक्षरता दर पर कोई **चार** विशेषताएँ लिखिए।
8. Explain the concept of 'Natural Regions' touching upon any *three* of its characteristics. 1×3=3
- 'प्राकृतिक प्रदेशों' की संकल्पना की व्याख्या किन्हीं **तीन** विशेषताओं की सहायता से कीजिए।
9. Write any *two* main features of each of the four pressure belts found on the earth. 1+1+1+1=4
- पृथ्वी पर पाई जाने वाली चारों वायुदाब पेटियों में से प्रत्येक की कोई **दो** मुख्य विशेषताएँ लिखिए।
10. Explain *four* factors responsible for bringing variation in the time and size of tides. 1×4=4
- ज्वार के समय और आकार में परिवर्तन के लिए उत्तरदायी **चार** कारकों को स्पष्ट कीजिए।

11. Why is the climate of Tiruvananthapuram different from that of Delhi? Explain with *four* examples. 1×4=4

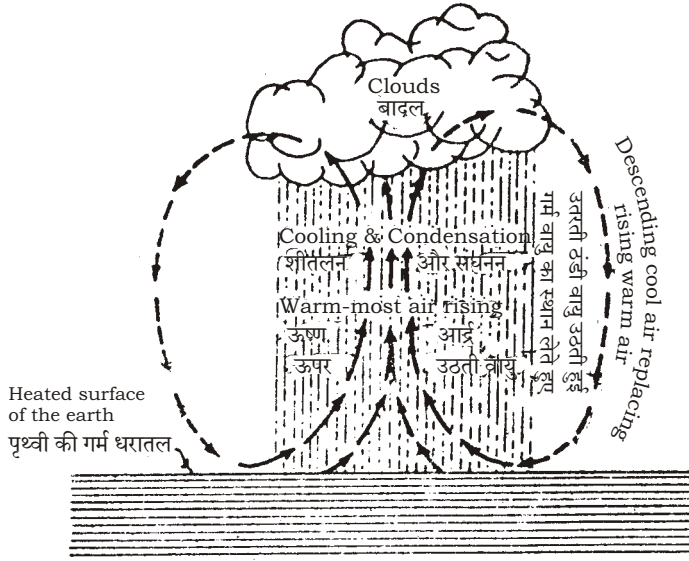
तिरुवनंथपुरम की जलवायु दिल्ली की जलवायु से भिन्न क्यों है? चार उदाहरणों सहित स्पष्ट कीजिए।

12. Explain with examples any *four* major problems related to utilisation of water in India. 1×4=4

भारत में जलउपयोग से सम्बन्धित किन्हीं चार प्रमुख समस्याओं को उदाहरणों सहित स्पष्ट कीजिए।

13. Study the given diagram and answer the questions that follow :

दिए गए आरेख का सावधानीपूर्वक अध्ययन कीजिए और निम्नलिखित प्रश्नों के उत्तर दीजिए :



- (a) Give suitable title to the given diagram. 1

दिए गए आरेख के लिए उपयुक्त शीर्षक दीजिए।

- (b) Explain the process of rainfall systematically with the help of given diagram. 3

दिए गए आरेख की मदद से वर्षा की प्रक्रिया को क्रमबद्ध रूप से स्पष्ट कीजिए।

14. "Intensity of cropping in India varies from one part to the other." Analyse the statement with suitable examples. 4

"भारत में फसलों की गहनता एक भाग से दूसरे भाग में भिन्न पाई जाती है।" उपयुक्त उदाहरणों सहित इस कथन का विश्लेषण कीजिए।

15. What are igneous rocks? Classify igneous rocks into *two* groups on the basis of their mode of occurrence. Write *three* characteristics of each group. 1+1+1½+1½=5

आग्नेय शैल किसे कहते हैं? निर्माण-प्रक्रिया के आधार पर आग्नेय शैलों को दो वर्गों में बाँटिए। प्रत्येक वर्ग की तीन-तीन विशेषताएँ लिखिए।

16. Define permanent and temporary migration and describe in brief *two* examples of each. 1+2+2=5

स्थायी प्रवास और अस्थायी प्रवास की परिभाषा दीजिए और प्रत्येक का दो-दो उदाहरणों सहित संक्षेप में वर्णन कीजिए।

17. What is river erosion? Explain *four* different ways in which river erosion takes place. 1+4=5

नदी अपरदन किसे कहते हैं? नदी अपरदन के चार भिन्न विधियों को स्पष्ट कीजिए।

18. Explain with *five* examples the ill-effects of industrial development on environment. 1×5=5

पर्यावरण पर औद्योगिक विकास के कुप्रभावों को पाँच उदाहरणों सहित स्पष्ट कीजिए।

## SECTION-B

### खण्ड-ब

#### OPTION-I

#### विकल्प-I

### ( Teaching of Geography at Primary Level )

#### ( प्राथमिक स्तर पर भूगोल-शिक्षण )

19. Classify human occupations into three divisions. Give *one* example of each division. 1½+1½=3

मानव व्यवसायों को तीन वर्गों में विभाजित कीजिए। प्रत्येक वर्ग का एक-एक उदाहरण दीजिए।

20. How does observation method of teaching geography provide direct experience of geographical phenomena? Explain with *three* examples related to everyday life. 1×3=3

भूगोल शिक्षण की प्रेक्षण विधि किस प्रकार भौगोलिक घटनाओं का सीधा अनुभव कराती है? **तीन** प्रतिदिन के जीवन से जुड़े उदाहरणों द्वारा स्पष्ट कीजिए।

21. Explain the main features of terrain of coastal strips of India. 4

भारत की तटीय पट्टियों के धरातल की मुख्य विशेषताएँ स्पष्ट कीजिए।

### OPTION-II

#### विकल्प-II

### ( Geography of Tourism in India ) ( भारत का पर्यटन-भूगोल )

19. Mention *three* prominent features of 'Tirupati Tourism Zone'. 1×3=3

'तिरुपति पर्यटन मण्डल' की **तीन** प्रमुख विशेषताओं का उल्लेख कीजिए।

20. Explain *three* important negative factors which cause periodical setback to the growth of tourist flow in India. 1×3=3

भारत में पर्यटन के प्रवाह को समय-समय पर अवरुद्ध करने वाले **तीन** महत्वपूर्ण नकारात्मक कारकों को स्पष्ट कीजिए।

21. How do the varied climatic conditions promote tourism in India? Explain with *four* major examples. 1×4=4

भारत में विविध जलवायविक दशाएँ पर्यटन को किस प्रकार प्रोन्नत करती हैं? **चार** प्रमुख उदाहरणों सहित स्पष्ट कीजिए।

This Question Paper contains Section–A 20 + Section–B 4/4 questions.

इस प्रश्न-पत्र के अन्तर्गत खण्ड–अ 20 + खण्ड–ब 4/4 प्रश्न हैं।

Time : 3 Hours ]

[ Maximum Marks : 80

समय : 3 घण्टे ]

[ पूर्णांक : 80

- Note :*
- (i) There are 24 questions in all.
  - (ii) All questions are compulsory.
  - (iii) Marks for each question are indicated against it.
  - (iv) Question Nos. **1** and **2** are on filling outline maps of the *World* and *India* respectively. Each question contains 4 test-items of very short answers of *1 mark* each.
  - (v) Question Nos. **3** to **6** are very short answer questions carrying *1 mark* each. Answer to these questions should not exceed *30 words* each.
  - (vi) Question Nos. **7** to **11** and **21** & **22** are also very short answer questions carrying *2 marks* each. Answer to these questions should not exceed *60 words* each.
  - (vii) Question Nos. **12** to **15** and **23** & **24** are short answer questions carrying *4 marks* each. Answer to these questions should not exceed *100 words* each.
  - (viii) Question Nos. **16** to **20** are long answer questions of *6 marks* each. Answer of each of the questions should not exceed *140 words*.
  - (ix) Outline maps of the *World* and *India* provided to you must be attached with your answer-book.
  - (x) Use of templates or stencils for drawing outline maps in illustrating your answer is allowed.
  - (xi) Answer of Question Nos. **21** to **24** should be given from any *one* of the Options.



- निर्देश : (i) प्रश्नों की कुल संख्या 24 है।  
(ii) सभी प्रश्न अनिवार्य हैं।  
(iii) प्रत्येक प्रश्न के सामने उसके निर्धारित अंक दिए गए हैं।  
(iv) प्रश्न संख्या 1 और 2 क्रमशः संसार और भारत के रेखामानचित्रों के भरने पर है। प्रत्येक प्रश्न में अति लघु उत्तरों की 4 परीक्षण मर्दे 1 अंक की हैं।  
(v) प्रश्न संख्या 3 से 6 अति लघुउत्तरीय प्रश्न हैं और प्रत्येक प्रश्न का 1 अंक है। ऐसे प्रत्येक प्रश्न का उत्तर 30 शब्दों से अधिक नहीं होना चाहिए।  
(vi) प्रश्न संख्या 7 से 11 तक और 21 तथा 22 भी अति लघुउत्तरीय प्रश्न हैं और प्रत्येक प्रश्न के 2 अंक हैं। इनमें से प्रत्येक प्रश्न का उत्तर 60 शब्दों से अधिक नहीं होना चाहिए।  
(vii) प्रश्न संख्या 12 से 15 और 23 तथा 24 लघुउत्तरीय प्रश्न हैं, जिनमें से प्रत्येक के 4 अंक हैं। इन प्रश्नों के उत्तर 100 शब्दों से अधिक नहीं होना चाहिए।  
(viii) प्रश्न संख्या 16 से 20 तक दीर्घउत्तरीय प्रश्न हैं और प्रत्येक प्रश्न के 6 अंक हैं। ऐसे प्रत्येक प्रश्न का उत्तर 140 शब्दों से अधिक नहीं होना चाहिए।  
(ix) दिए गए संसार और भारत के रेखामानचित्रों को अपनी उत्तर-पुस्तिका में अवश्य नत्थी कीजिए।  
(x) अपने उत्तर को स्पष्ट करने के लिए रेखामानचित्र बनाने के लिए साँचों या स्टेंसिलों के प्रयोग की अनुमति दी जाती है।  
(xi) प्रश्न संख्या 21 से 24 तक के उत्तर किसी एक विकल्प में से दीजिए।

## SECTION-A

### खण्ड-अ

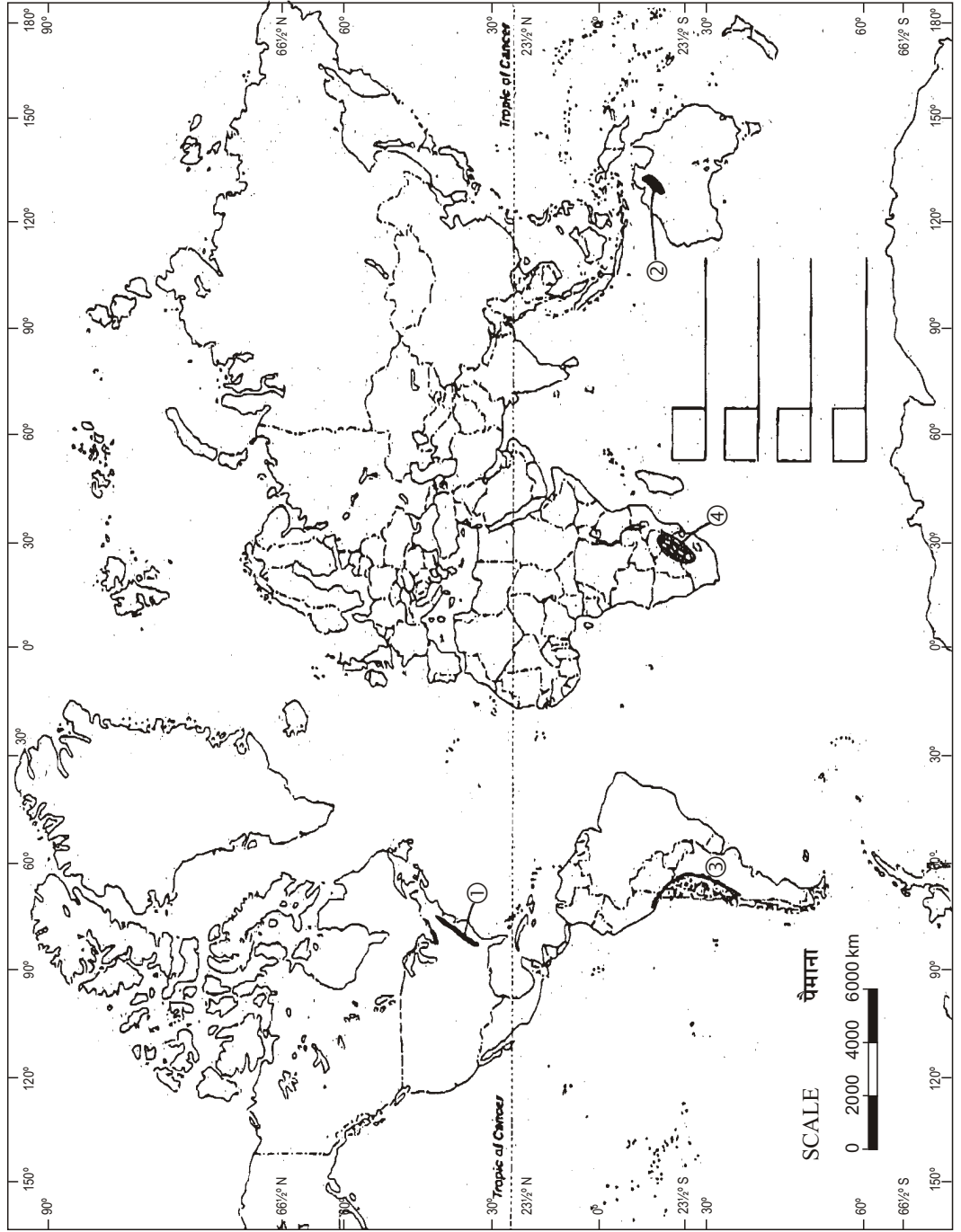
1. Four geographical features with serial numbers (1) to (4) are marked on the given *Political Outline Map of the World*. Identify these features with the help of the following information and write their correct names in your answer-book against each number :

1×4=4

(1) Mountain; (2) Lava Plateau; (3) Desert; (4) Grassland.

दिए गए संसार के राजनीतिक रेखामानचित्र में चार भौगोलिक लक्षणों को संख्या (1) से (4) तक दिखाया गया है। इन लक्षणों को निम्नलिखित जानकारी की मदद से पहचानिए और उनके सही नाम अपनी उत्तर-पुस्तिका में प्रत्येक संख्या के सामने लिखिए :

(1) पर्वत; (2) लावा पठार; (3) मरुस्थल; (4) घासभूमि।



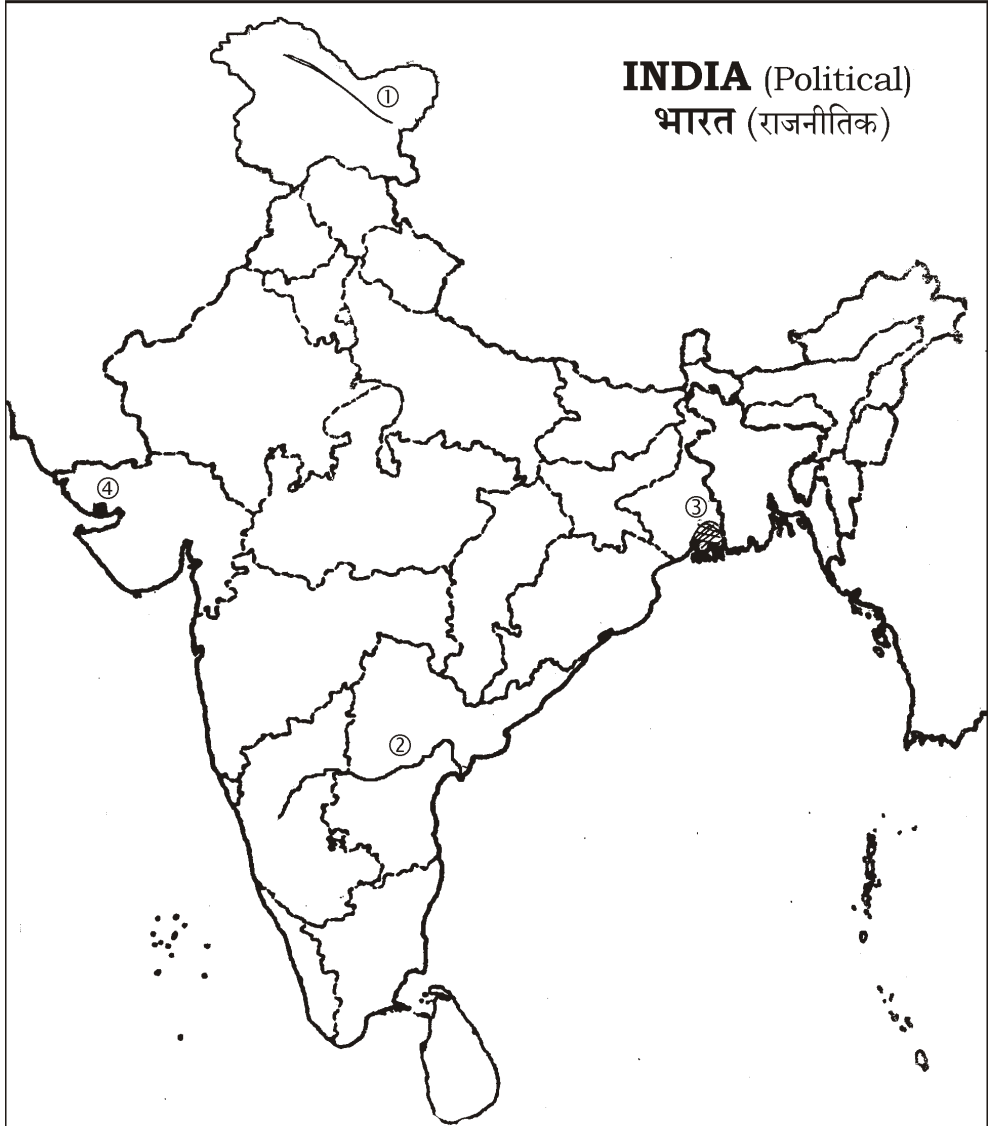
2. Four geographical features with serial numbers (1) to (4) are marked on the given *Political Outline Map of India*. Identify these features with the help of the following information and their correct names in your answer-book against each number :

1×4=4

(1) Mountain; (2) River; (3) Vegetation Type; (4) Major Seaport.

दिए गए भारत के राजनीतिक रेखामानचित्र में चार भौगोलिक लक्षणों को संख्या (1) से (4) तक दिखाया गया है। इन लक्षणों को नीचे दी गई जानकारी की मदद से पहचानिए और उनके सही नाम अपनी उत्तर-पुस्तिका में प्रत्येक संख्या के सामने लिखिए :

(1) पर्वत; (2) नदी; (3) वनस्पति प्रकार; (4) प्रमुख समुद्री पत्तन।



3. Which are the *two* main gases of the atmosphere? ½×2=1  
वायुमण्डल की दो प्रमुख गैसें कौन-सी हैं?
4. What is heat budget? 1  
ऊष्मा बजट किसे कहते हैं?
5. Define the term 'permanent migration' with an example. 1  
'स्थायी प्रवास' शब्द की परिभाषा एक उदाहरण सहित दीजिए।
6. Name the *two* neighbouring countries nearest to India which have higher rank in Human Development Index than India. ½×2=1  
भारत के दो निकटतम पड़ोसी देशों के नाम बताइए, जिनका मानव विकास सूचकांक भारत से बेहतर है।
7. What is wet farming? Mention the *two* major crops grown in wet-farming areas. 1+1=2  
आर्द्र कृषि किसे कहते हैं? आर्द्र कृषिक्षेत्रों में उगाई जाने वाली दो प्रमुख फसलों का उल्लेख कीजिए।
8. How is an ox-bow lake formed? Explain. 2  
गोखुर झील किस प्रकार बनती है? स्पष्ट कीजिए।
9. Distinguish between mountain breezes and valley breezes by stating any *two* points of each. 1×2=2  
पर्वत समीर और घाटी समीर में कोई दो-दो अन्तर स्पष्ट कीजिए।
10. How are Eastern Ghats differ from Western Ghats? Give *two* points of distinction of each. 1×2=2  
पूर्वी घाट, पश्चिमी घाटों से किस प्रकार भिन्न हैं? दो-दो अन्तर बताइए।

11. Why do we need water harvesting? Give any *two* reasons? 1×2=2

हमारे लिए जलसंग्रह करना क्यों आवश्यक है? कोई दो कारण दीजिए।

12. What are the *four* main branches of systematic geography? Write main feature of each branch. 2+2=4

क्रमबद्ध भूगोल की चार मुख्य शाखाएँ कौन-सी हैं? प्रत्येक शाखा की प्रमुख विशेषता बताइए।

13. Define the term 'Tides'. Explain any *three* factors responsible for bringing variation in the regulation and the size of tides. 1+3=4

'ज्वार-भाटा' शब्द की परिभाषा दीजिए। ज्वार-भाटा के समय और आकार में परिवर्तन के उत्तरदायी किन्हीं तीन कारकों को स्पष्ट कीजिए।

14. "The harsh climate supports less population." Examine the statement with arguments. 4

"कठोर जलवायु कम जनसंख्या का पोषण करती है।" इस कथन की तर्क सहित न्यायसंगत समीक्षा कीजिए।

15. Suggest any *four* measures to control landslides and to mitigate their impact. 1×4=4

भूस्खलन को रोकने तथा उनके दुष्प्रभावों को कम करने के कोई चार उपाय सुझाइए।

16. Describe with examples *six* points of economic significance of mountains. 1×6=6

पर्वतों के आर्थिक महत्त्व की छः बिन्दुओं का उदाहरणों सहित वर्णन कीजिए।

17. Describe in brief the distribution of major abiotic resources of India. 6

भारत के प्रमुख अजैविक संसाधनों के वितरण का संक्षेप में वर्णन कीजिए।

18. Define the term 'Evaporation'. Explain *five* factors affecting the rate of evaporation. 1+5=6

'वाष्पीकरण' शब्द की परिभाषा दीजिए। वाष्पीकरण की दर को प्रभावित करने वाले पाँच कारकों की व्याख्या कीजिए।

19. Explain any *six* factors which are responsible for the centralization of cotton-textile industry in Ahmedabad-Mumbai-Pune region. 1×6=6

अहमदाबाद-मुम्बई-पुणे प्रदेश में सूती-वस्त्र उद्योग के केन्द्रीकरण के उत्तरदायी किन्हीं छः कारकों की व्याख्या कीजिए।

20. Explain with examples the *three* factors which influence the type of rural settlements in India. 2×3=6

भारत में ग्रामीण अधिवासों के प्रकारों को प्रभावित करने वाले तीन कारकों को उदाहरणों सहित स्पष्ट कीजिए।

## SECTION-B

### खण्ड-ब

#### OPTION-I

#### विकल्प-I

### ( Local Area Planning )

### ( स्थानीय क्षेत्र नियोजन )

21. Mention any *two* major steps needed for primary data collection. 1×2=2

प्राथमिक आँकड़ों के एकत्रीकरण के लिए आवश्यक किन्हीं दो सोपानों का उल्लेख कीजिए।

22. Explain the term 'Arithmetic Mean' with example. 1+1=2

'अंकगणितीय माध्य' शब्द की व्याख्या उदाहरण सहित कीजिए।

23. Describe any *four* basic requirements of local area planning. 1×4=4

स्थानीय क्षेत्र नियोजन की किन्हीं चार मूलभूत आवश्यकताओं का वर्णन कीजिए।

24. Suggest *four* ways for the slum area development in different cities of India. 1×4=4

भारत के विभिन्न नगरों में मलिन बस्ती क्षेत्र विकास के लिए चार तरीके सुझाइए।

**( Geography of Tourism in India )****( भारत में पर्यटन-भूगोल )****21.** What is hatt tourism? 2

हाट पर्यटन क्या है?

**22.** Explain the term 'Sustainable Tourism'. 2

'सततवाही पर्यटन' शब्द की व्याख्या कीजिए।

**23.** Describe in brief the contribution of tour guides in the success of tour programme. 4

पर्यटन कार्यक्रमों को सफल बनाने में टूर गाइड्स के योगदान का संक्षेप में वर्णन कीजिए।

**24.** How does climate play an important role as a major resource for the development of tourism in India? Explain with suitable examples. 4

भारत में जलवायु पर्यटन विकास के लिए एक प्रमुख संसाधन के रूप में किस प्रकार महत्वपूर्ण भूमिका निभाती है? उपयुक्त उदाहरणों सहित स्पष्ट कीजिए।

★ ★ ★